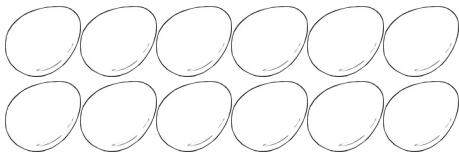






Malaufgabe und Tauschaufgabe






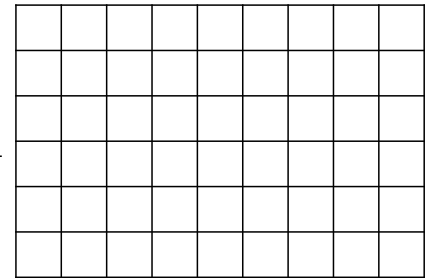


Male Ostereier zur Aufgabe und schreibe die Tauschaufgabe.

$4 \cdot 3 = \underline{\quad}$



$3 \cdot 6 = \underline{\quad}$



Finde zuerst die Plusaufgabe, dann die Malaufgabe und die Tauschaufgabe.

