


SCHRIFTLICHE ADDITION UND SUBTRAKTION

5

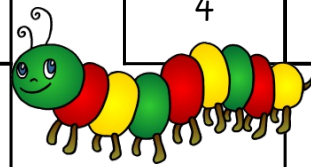



6

EINMALEINS

.	5	3	
5			
		12	


.			
8			
4	12	8	



7

VERGROßERN UND VERKLEINERN

Zeichne die Figur halb so groß.



Zeichne die Figur doppelt so groß.

